

5º de PRIMARIA

(Semana del 4 al 8 de mayo)

(Sólo tenéis que enviarme lo que está en rojo)

Esta semana vamos a cambiar un poco de tema, aunque no vamos a olvidar el mundo del Blues y el Jazz, que aparecerá también hoy en una nueva canción.

Esta semana vamos a centrarnos en el **pulso** de la música de la música y de paso, repasar las **figuras y los silencios musicales**.

Para ello, las actividades para esta semana serán las siguientes:

1. Para empezar, nos fijaremos en la pág. 31. Vamos a ver los compases de:

- $2/4$ tiene 2 partes, la 1ª es Fuerte y la 2ª es Débil.
- $3/4$ tiene 3 partes, la 1ª es Fuerte y la 2ª y la 3ª son Débiles.
- $4/4$ tiene 4 partes, la 1ª es Fuerte, la 2ª es Débil, la 3ª es SemiFuerte y la 4ª Débiles.

2. Una vez leída la explicación anterior y los cuadros del libro, vamos a ver algunos videos que repasan lo que acabamos de ver:

Tiempos fuertes y débiles <https://www.youtube.com/watch?v=q4h0KWpvk-E>



Las figuras musicales <https://www.youtube.com/watch?v=DWVfgbmjJlo>

3. Ahora tenéis que hacer la ficha que os incluyo en la segunda pág. de este mismo documento. *(Podéis imprimirla y si os es imposible, podéis copiarla)*

(CUANDO LO HAYÁIS HECHO, MANDADME POR FAVOR UNA FOTO DE LA FICHA)



4. Para acabar, vamos a escuchar (y también cantar) una de las canciones de gospel más conocidas: "Oh!, When the Saints!" (pág. 30; audic. 34).




NOMBRE: _____ **CURSO:** _____







1. Relaciona cada figura con su nombre:

- negra
- blanca
- corchea
- corcheas
- Semicorchea
- Silencio de negra
- Silencio de corchea
- Silencio de blanca



Recuerda que 4 semicorcheas  valen 1 tiempo.

2. Completa los datos que faltan en la tabla:

Nombre	Figura	Duración	Silencio
		___ tiempos	
		___ tiempos	
		___ tiempo	
		1/2 tiempo	
		1/4 tiempo	

3. Coloca las líneas divisorias:



4. Fíjate bien en el segundo video y explica qué aparato es este y para qué sirve: